


Componente Curricular: Geografia
Exercício – 6º Ano - 2020

01. (cps) Um grande divertimento para os turistas que passam pelo Observatório Real de Greenwich, nos arredores de Londres, é tirar fotografias com um pé de cada lado da representação do Meridiano de Greenwich.

Esse Meridiano foi definido como o meridiano principal da Terra, o grau zero da longitude, em uma reunião realizada em Washington, em 1884.



<<http://tinyurl.com/jxkcbaF>> Acesso em: 17.01.2017.
Original colorido.

Essa linha imaginária divide o globo terrestre em hemisférios

- a) tropical e temperado.
- b) ártico e antártico.
- c) boreal e austral.
- d) oeste e leste.
- e) norte e sul.

02. (G1) Explique o que significa a expressão "sensoriamento remoto" e destaque quais são as suas utilidades.

03. (ifsul) "[...] Conjunto de estudos e operações científicas, artísticas e técnicas, baseado nos resultados de observações diretas ou de análise de documentação, com vistas à elaboração e preparação de cartas, planos e outras formas de expressão, bem como sua utilização."

DUARTE, P. A. Fundamentos de Cartografia. Florianópolis: Ed. da UFSC, 2008, p. 15.

Qual o conceito está sendo apresentado no texto?

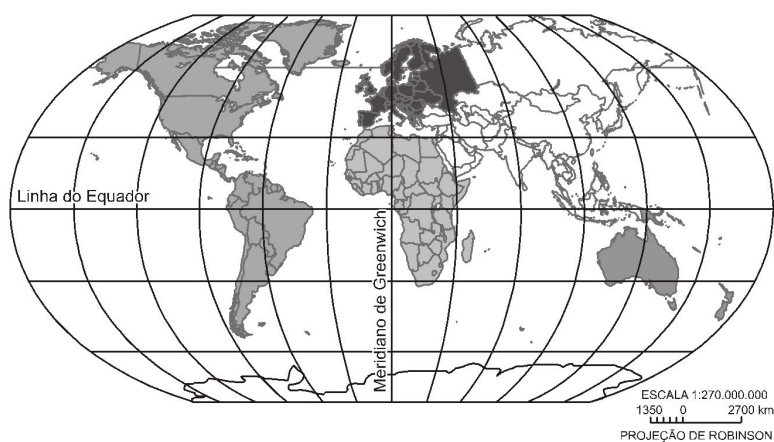
- a) Geografia.
- b) Cartografia.
- c) Biogeografia.
- d) Historiografia.
- e) Geomorfologia.

04. (cps) A peça teatral O Reino das Futilidades, texto escrito por Berenice Gehlen Adams e Marina Strachman, discute a questão da modernização e do aumento do consumo de futilidades. O texto pretende despertar a consciência para a valorização dos recursos naturais e alertar o quanto somos induzidos a consumir em excesso.

Sobre esse tema, vale destacar que

- a) a rapidez da inovação tecnológica não induz ao aumento de consumo, pois as mercadorias produzidas há mais tempo não conseguiriam ser vendidas, levando a um colapso do mercado varejista.
- b) a ampliação do consumo não leva a uma crise ambiental, pois a quantidade de matérias primas disponíveis no planeta aumenta na mesma proporção que a fabricação de produtos industriais.
- c) o desenvolvimento tecnológico não gera o aumento da vida útil dos produtos, levando a um aumento considerável da produção e a consequente diminuição da retirada de matérias-primas da natureza.
- d) o aumento do consumismo não impacta o meio ambiente, uma vez que, ao realizarmos o descarte de um determinado objeto, o meio ambiente cuida para que este retorne à natureza, reiniciando o ciclo.
- e) ao praticar o consumismo, as pessoas não estão agindo coletivamente, pois não levam em conta o impacto que o consumo exagerado provoca sobre o meio ambiente, bem como suas consequências para o futuro da humanidade.

05. (utfpr) Observe a imagem a seguir.



A partir da observação do planisfério abaixo é possível afirmar que:

- a) O continente americano é atravessado por diversas linhas de latitude norte e sul.
- b) A África é um continente cuja maior parte encontra-se na latitude oeste da Terra.
- c) A Ásia encontra-se a oeste da Europa, que por sua vez está ao norte da África.
- d) A Oceania possui as linhas de mais elevados valores de latitude e longitude.
- e) A América do Sul estende-se pelos hemisférios ocidental e oriental da Terra.

06. (cps) Um dos grandes problemas das cidades é o que fazer com o lixo gerado pela sua população.

Uma proposta existente é o programa **R3**, que consiste em

Reduzir,
Reutilizar e
Reciclar.

Campanhas governamentais deveriam orientar a população para a aplicação desse programa, pois ele

- a) evita a produção de chorume, um líquido com alto teor de matéria orgânica, que pode apresentar metais pesados provenientes principalmente de pilhas e baterias.
- b) introduz a coleta seletiva de lixo, em todas as cidades, o que facilitaria, nos lixões, o processo de reciclagem e o descarte do lixo de forma adequada.
- c) facilita a construção de aterros sanitários, e assim teríamos a eliminação de lixo inorgânico, como plásticos, folhas de árvores, vidros e outros.
- d) reduz materiais confeccionados com metais, com plásticos ou com vidros, que devem ser reutilizados porque não podem ser reciclados.
- e) minimiza a geração de lixo, pois estimula a utilização de embalagens retornáveis em detrimento das descartáveis.


07. (utfpr) Sobre coordenadas geográficas vale ressaltar que:

- a) a Latitude de um lugar é a sua distância medida em graus até a linha do meridiano de Greenwich.
- b) os meridianos são linhas imaginárias, traçadas paralelamente ao Equador.
- c) a Longitude de um lugar qualquer na superfície é a distância medida em graus até a linha do Equador.
- d) a Latitude de um lugar é a sua distância medida em graus, até a linha do Equador.
- e) as distâncias Longitudinais são determinadas por paralelos e as Latitudes, por meridianos.

08. (cftce) São as principais alterações ambientais causadas pelo ritmo frenético da urbanização e o aparecimento de novas megacidades nas últimas décadas em países subdesenvolvidos:

- a) geração de grandes volumes de resíduos sólidos, poluição d'água e da atmosfera.
- b) globalização e poluição atmosférica.
- c) coleta seletiva de resíduos e investimentos no comércio.
- d) minimização do deficit habitacional e coleta seletiva de resíduos.
- e) diminuição do nível de instrução da população e o aumento do setor informal.

09. (G1) Analise a figura.



Como você pode se localizar em relação aos pontos cardeais sem utilizar bússolas?

10. (G1) Assinale V para verdadeiro ou F para falso nas afirmativas a seguir:

- a) () Apesar dos seres humanos reconhecerem a natureza como fonte de sua sobrevivência e prosperidade, causam prejuízos aos recursos naturais.
- b) () O processo de industrialização e o modelo capitalista de desenvolvimento favorecem a preservação ambiental.
- c) () Apesar da natureza possuir uma enorme capacidade de recuperação, a interferência humana tem sido muito prejudicial ao meio ambiente.
- d) () A formação do espaço geográfico favoreceu o desenvolvimento tecnológico ao longo do tempo, bem como, a preservação e conservação da natureza.

#SeLiga: "A Geografia é o mundo e tudo o que nele há"