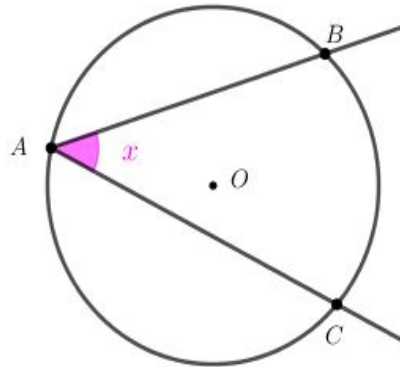
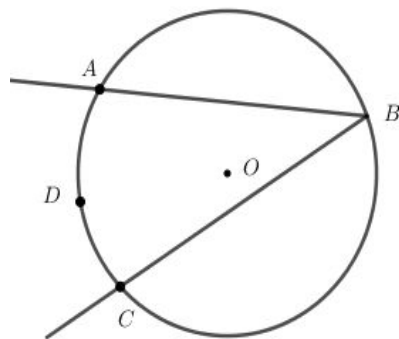


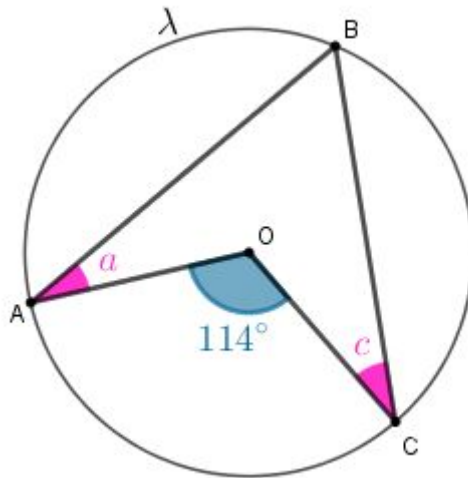
01. Na figura, o arco BC mede 120° .
Calcule o valor de x .



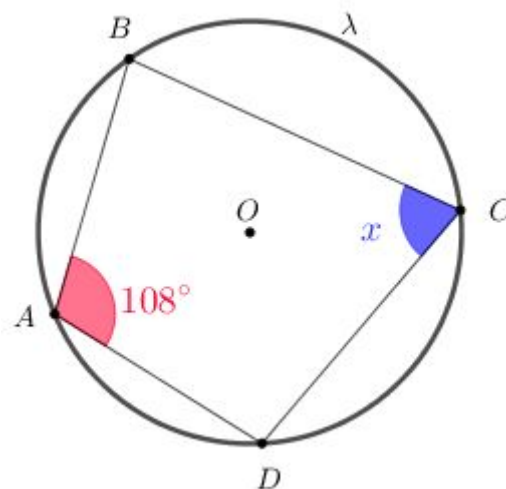
02. Na figura, o ângulo ABC mede 76° .
Calcule a medida angular do arco ADC



03. Na figura, A , B , e C são pontos da circunferência λ de centro em O e a e c são as medidas dos ângulos com vértices em A e C , respectivamente. Determine, em graus, a soma $a+c$.



04. Na figura, A , B , C e D são pontos da circunferência λ de centro em O . Determine a medida x , em graus, indicada na figura.



05. Na figura, A , B e C são pontos da circunferência λ de centro em O . Se AB é um diâmetro de λ , determine a medida θ , em graus, indicada na figura.

